


ตอนที่1 แนวข้อสอบเกี่ยวกับการฟัง

ฟังข้อความต่อไปนี้แล้วกากบาท (X) ทับภาพที่เกี่ยวข้องกับคำถามในข้อ 1-4

น้องใหม่เป็นเด็กที่ชอบรับประทานอาหารประเภทเนื้อสัตว์ หมู ไช้ ซึ่งช่วยให้ร่างกายเจริญเติบโต ส่วนพี่ไก่เป็นคนรับประทานอาหารยาก มักจะบ่นและเบื่ออาหาร พี่ไก่เป็นคนชอบเล่นชุกชนและปวยเป็นหวัดอยู่เสมอ คุณพ่อที่เป็นครูและคุณแม่ซึ่งทำงานเป็นพยาบาลจึงมักพาพี่ไก่ไปพบคุณหมอ คุณหมอแนะนำให้พี่ไก่อรับประทานผัก ผลไม้ และเล่นกีฬาเหมือนน้องใหม่ เพราะว่าจะช่วยให้ร่างกายแข็งแรง ป้องกันโรคต่าง ๆ ได้


1. ใครที่ชอบรับประทานเนื้อสัตว์และนม




2. อาหารประเภทใดที่ทำให้ร่างกายเจริญเติบโต



3. อาหารประเภทใดที่ช่วยให้เราไม่ป่วยเป็นโรคต่างๆได้ง่าย



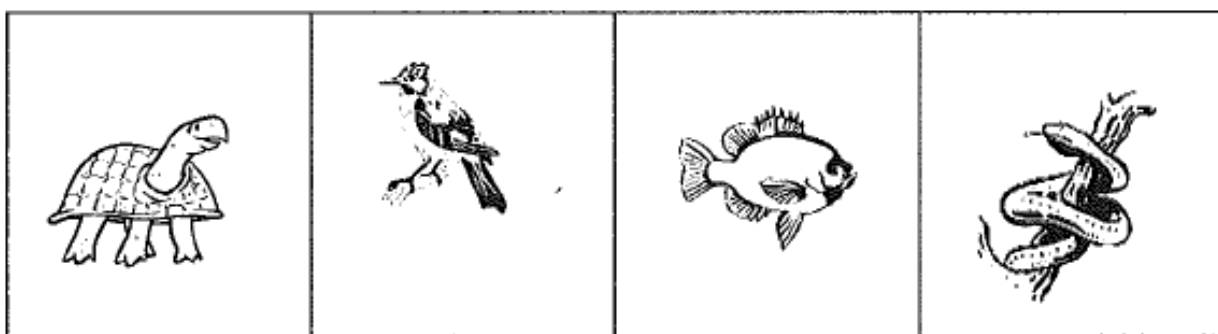
4. คุณแม่ของไหมทำงานอะไร




ฟังข้อความต่อไปนี้แล้ววงกลมภาพที่เกี่ยวข้องกับคำถามในข้อ 5-6

คุณครูสอนว่า สัตว์แบ่งเป็น 3 ประเภท คือ สัตว์ที่กินเนื้อเป็นอาหาร เช่น เสือ สิงโต และงู ประเภทที่ 2 สัตว์ที่กินพืชเป็นอาหาร เช่น ม้า วัว ควาย และช้าง สัตว์ประเภทสุดท้ายกินทั้งเนื้อและพืช เป็นอาหาร เช่น เต่า ปลา นก และคน

5. สัตว์ที่กินอาหารแตกต่างจากพวก คือ สัตว์ตัวใด




6. ภาพใดคือ สัตว์ที่กินอาหารประเภทเนื้อ




ฟังข้อความต่อไปนี้แล้ววงกลมภาพที่เกี่ยวข้องกับคำถามในข้อ 7-8

“สิงโต พี่ใหญ่ เดินนำหน้า กวาง เขางามเดินตามหลัง หม่าป่าเจ้าเล่ห์
เดินรั้งท้าย ส่วน หนู จมูกดี อาสาเป็นผู้นำการเดินทาง”

7. สัตว์ที่เดินเป็นลำดับที่ 4 คือ สัตว์ตัวใด





8. สัตว์ที่เดินเป็นตัวแรก คือ สัตว์ตัวใด



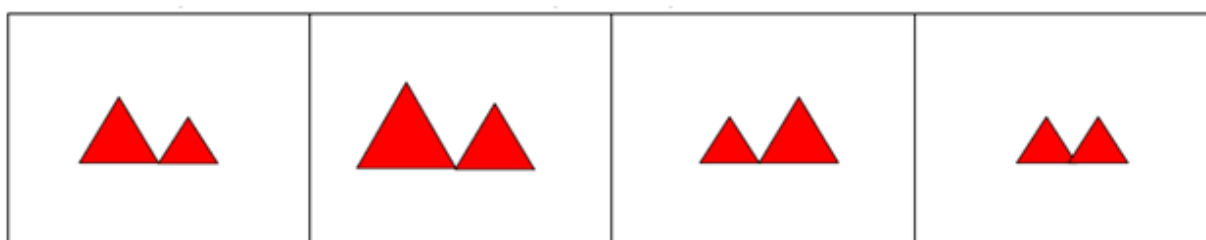
ตอนที่2 แนวข้อสอบอนุกรมความสัมพันธ์

คำสั่ง จงกากบาท (X) ทับช่องที่มีภาพเป็นคำตอบที่ถูกต้อง

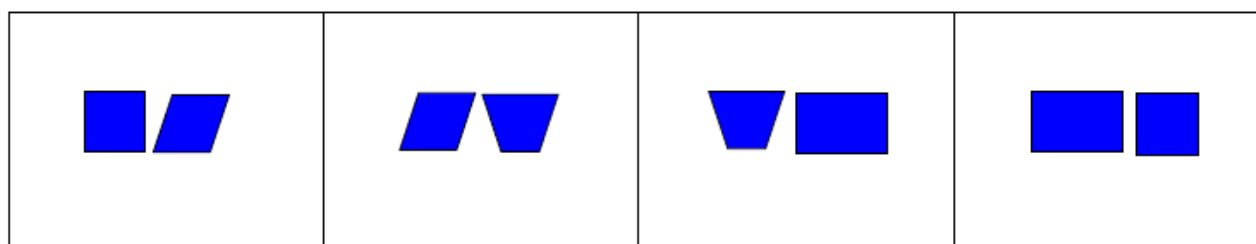
1 ให้นักเรียนดูการเรียงรูปวงกลมต่อไปนี้แล้วหาภาพที่หายไปว่าอยู่ในช่องใด



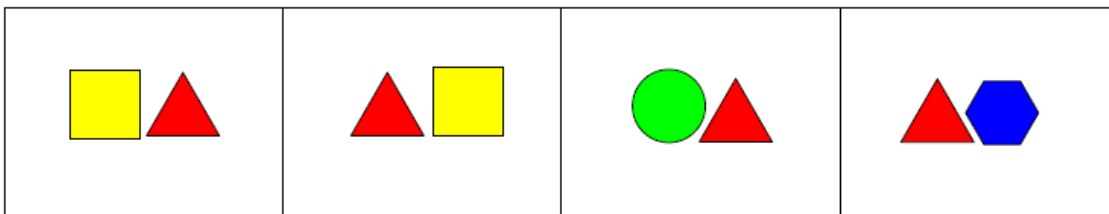
2 ให้นักเรียนดูการเรียงรูปสามเหลี่ยมต่อไปนี้แล้วหาภาพถัดไป 2 รูปว่าอยู่ในช่องใด



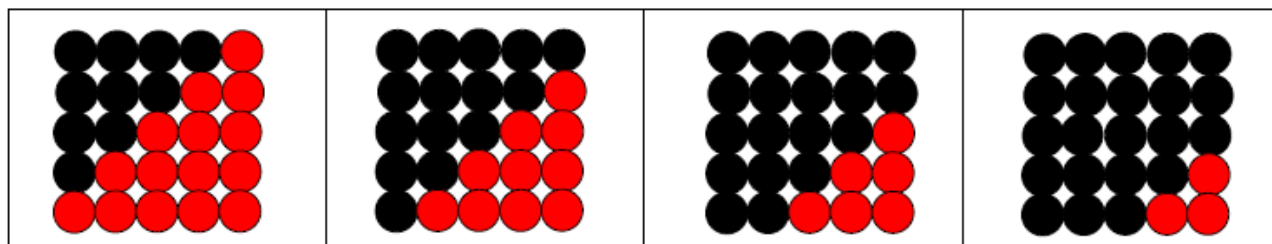

3 ให้นักเรียนดูการเรียงรูปสี่เหลี่ยมต่อไปนี้แล้วหาภาพถัดไป 2 รูปว่าอยู่ในช่องใด



4 ให้นักเรียนดูการเรียงรูปต่อไปนี้แล้วหาภาพถัดไป 2 รูปว่าอยู่ในช่องใด



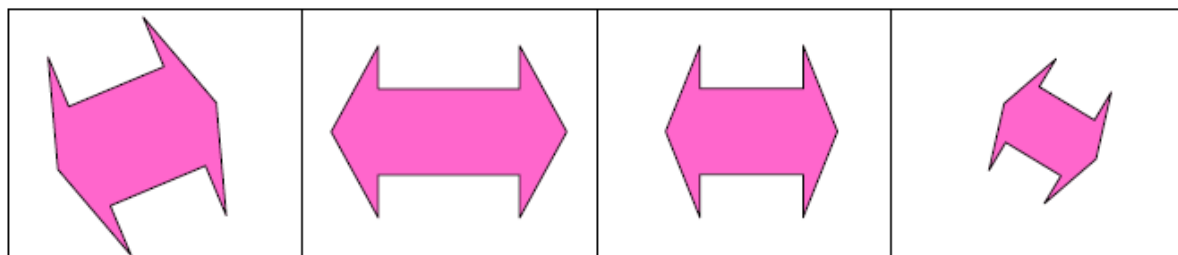

5 ให้นักเรียนดูการเรียงรูปต่อไปนี้แล้วหาภาพถัดไป 2 รูปว่าอยู่ในช่องใด



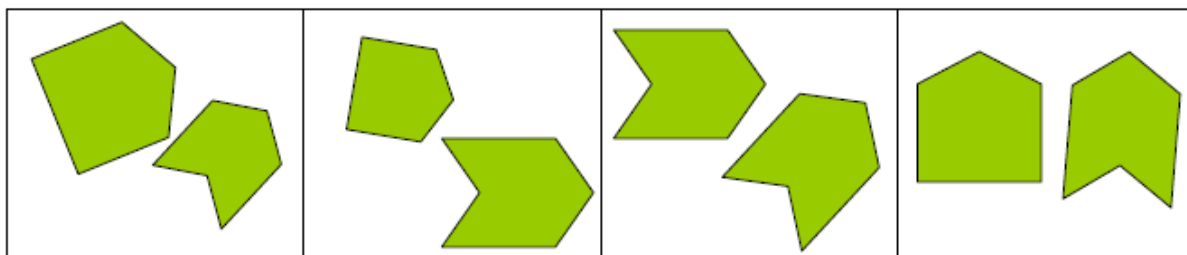

ตอนที่3 แนวข้อสอบเกี่ยวกับการคาดคะเน ขนาดภาพ

คำสั่ง จงขีดเครื่องหมาย (/) ทับช่องที่มีภาพเป็นคำตอบที่ถูกต้อง

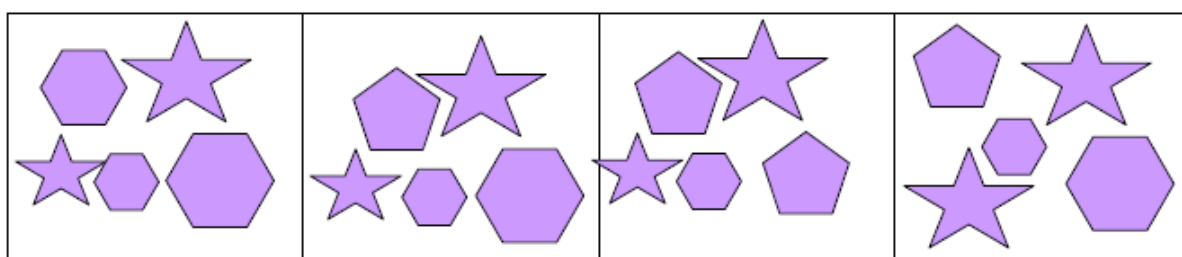

1 ให้นักเรียนสังเกตภาพที่ให้มาเป็นแผ่นกระดาษที่ถูกเจาะเป็นช่องว่าง รูปที่หายไปเป็นรูปในช่องใด



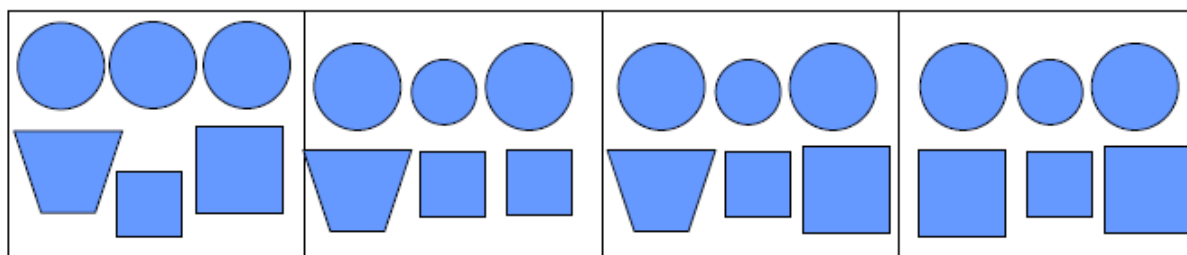
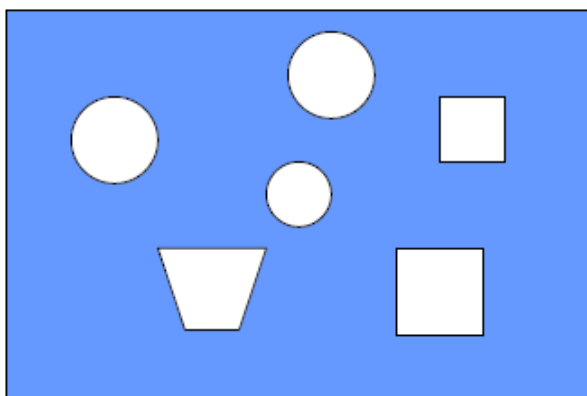
2 ให้นักเรียนสังเกตภาพที่ให้มาเป็นแผ่นกระดาษที่ถูกเจาะเป็นช่องว่าง รูปที่หายไปเป็นรูปในช่องใด



3 ให้นักเรียนสังเกตภาพที่ให้มาเป็นแผ่นกระดาษที่ถูกเจาะเป็นช่องว่าง รูปที่หายไปเป็นรูปในช่องใด



4 ให้นักเรียนสังเกตภาพที่ให้มาเป็นแผ่นกระดาษที่ถูกเจาะเป็นช่องว่าง รูปที่หายไปเป็นรูปในช่องใด



5 ให้นักเรียนสังเกตภาพที่ให้มา แล้วหาว่ารูปในช่องใดเป็นรูปทั้งหมดของรูปที่ให้มา

